

## Séquence Terminale 1.1.2. : Le lien PIB, croissance économique et bien-être

**Objectif :** Comprendre quels sont les liens entre croissance et bien être. Savoir distinguer ces deux notions. Comment comprendre l'évolution de la croissance ? Quel est l'intérêt d'utiliser le PIB par habitant dans l'analyse ?

Doc. 1 :


### La croissance économique : un enjeu fondamental pour les pays pauvres

La croissance économique est généralement mesurée par le taux d'accroissement annuel du produit intérieur brut (PIB) d'un pays. Pourquoi quelqu'un devrait-il s'intéresser à cette statistique aride au lieu de s'intéresser à des indicateurs plus explicites comme des indicateurs de bien-être, de consommation ou de bonheur ? L'argument le plus convaincant est peut-être que le bien-être matériel<sup>1</sup> de milliards de gens est principalement déterminé par la croissance économique.

Dans les pays économiquement avancés, la croissance économique a permis, depuis la Révolution industrielle, à presque toute la population de vivre selon un style de vie qui était celui d'une poignée de quelques privilégiés il y a une centaine d'années, lorsque le PIB par tête ne représentait alors qu'une faible part de ce qu'il est aujourd'hui [...]. Au contraire, le manque de croissance économique dans les pays les plus pauvres du monde implique que les conditions de vie pour des centaines de millions de personnes sont épouvantables comparées aux niveaux de vie de pays riches. En effet, les niveaux de revenu par tête dans plusieurs pays au XXI<sup>e</sup> siècle sont beaucoup plus faibles qu'ils ne l'étaient au XIX<sup>e</sup> siècle en Europe.

P. Aghion et P. Howitt, *L'Économie de la croissance*, Economica, 2010.

1. Le bien-être matériel est ici défini comme le niveau de vie.



Dans l'est du Kenya où sévit la sécheresse, approvisionnement en eau dans un puits (29/10/2010).

Dans les pays pauvres, de nombreuses familles n'ont pas accès à l'eau potable.

1.1. Pourquoi la croissance améliore-t-elle le bien être matériel ?

1.2. Donner des exemples d'éléments du bien-être, autres que celui de l'accès à l'eau potable, qui ne sont pas assurés dans les pays pauvres ?

1.3. Pourquoi la croissance économique est-elle une priorité pour les pays pauvres ?

Doc. 2 :

### Produit intérieur brut (en euros constants\*) et croissance économique en France

	2007	2008	2009	2010	2011	2012	2013	2014
<b>PIB (EN MILLIARDS)</b>	2 015,4	2 019,4	1 960,0	1 998,5	2 040,0	2 043,8	2 057,2	2 060,9
<b>CROISSANCE ÉCONOMIQUE (EN %)</b>								

© Insee, 2016.

2.1. Compléter la dernière ligne du tableau en faisant les calculs appropriés.

2.2. Faire une phrase avec le résultat obtenu en 2014.

2.3 Représenter graphiquement l'évolution du taux de croissance entre 2007 et 2014.

Doc. 3 :

### Croissance et niveau de vie : une comparaison France/Afrique subsaharienne

Années		1970	1990	2013
Mesure	Économie			
PIB en milliards de dollars <sup>1</sup>	France	896	1 627	2 259
	Afrique <sup>2</sup>	148	244	666
PIB par habitant en dollars <sup>1</sup>	France	17 262	27 842	33 945
	Afrique <sup>2</sup>	550	516	763

1. Dollars des États-Unis aux prix constants (2005) et taux de change constants (2005).

2. Afrique subsaharienne sans l'Afrique du Sud.

Source : CNUCED (Conférence des Nations unies sur le commerce et le développement).



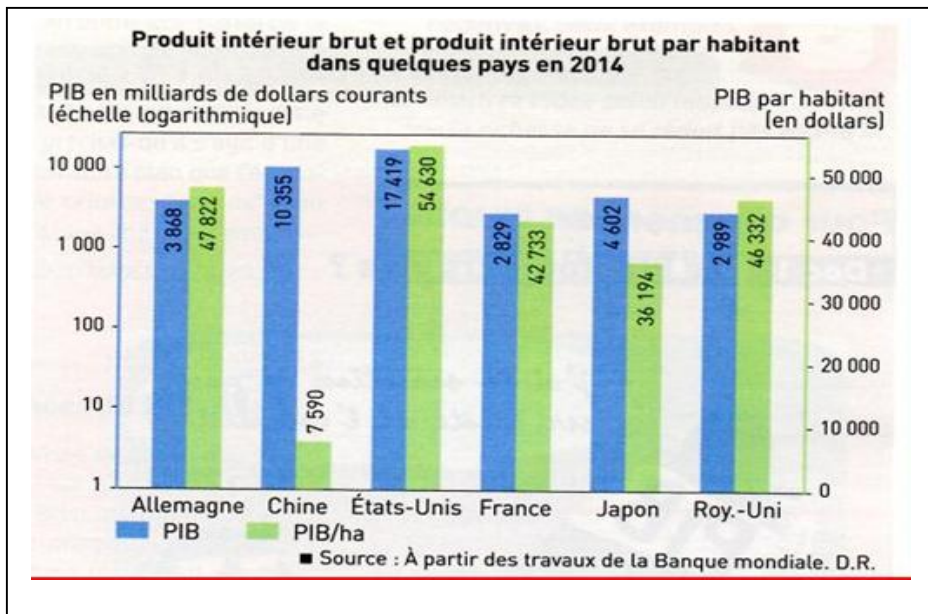
3.1. Pourquoi le PIB par habitant de l'Afrique subsaharienne diminue-t-il de 1970 à 1990 alors que le PIB augmente ?

3.2. En 1970, le PIB de la France représente combien de fois le PIB de l'Afrique ? En 2013 ? Mêmes questions pour le PIB par habitant. Commenter les résultats obtenus.

3.3. En supposant que le PIB par habitant de la France augmente de 1 % par an en moyenne entre 2013 et 2173 et celui de l'Afrique de 3,5 % par an, quels seront les PIB par habitant de la France et de l'Afrique en 2173 ? Commenter.

3.4. Quel message le dessinateur a-t-il souhaité faire passer ?

Doc. 4 :



4.1. Faire une phrase avec les données entourées pour la France.

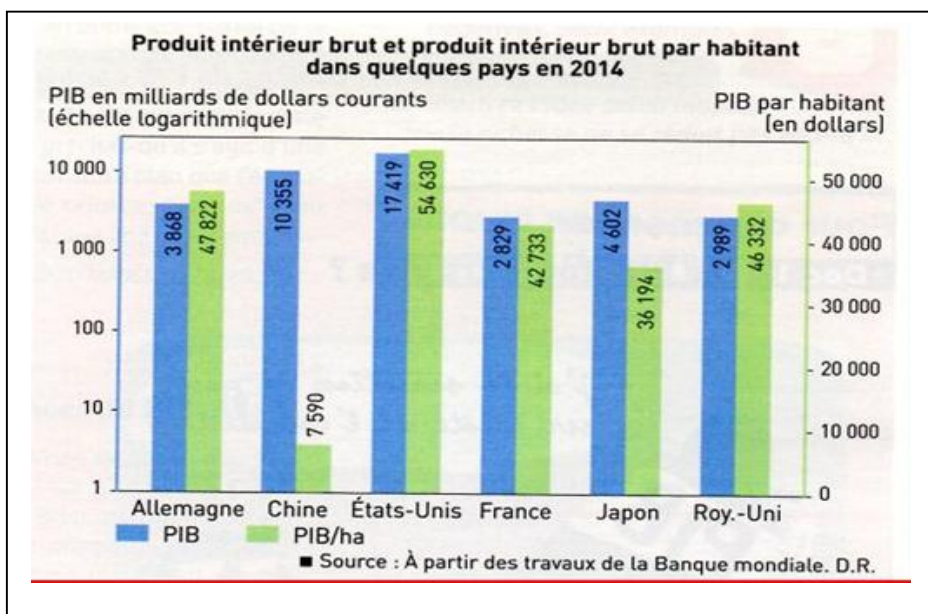
4.2. Quel pays a le PIB le plus élevé. Est-ce aussi le cas pour son PIB par habitant ?

4.3. Quelle relation entre PIB et PIB par habitant semble mettre en évidence ce document ?

3.3. En supposant que le PIB par habitant de la France augmente de 1 % par an en moyenne entre 2013 et 2173 et celui de l'Afrique de 3,5 % par an, quels seront les PIB par habitant de la France et de l'Afrique en 2173 ? Commenter.

3.4. Quel message le dessinateur a-t-il souhaité faire passer ?

Doc. 4 :



4.1. Faire une phrase avec les données entourées pour la France.

4.2. Quel pays a le PIB le plus élevé. Est-ce aussi le cas pour son PIB par habitant ?

4.3. Quelle relation entre PIB et PIB par habitant semble mettre en évidence ce document ?